



JMÉNO:.....

DATUM:.....

ROVINNÉ A PROSTOROVÉ ÚTVARY

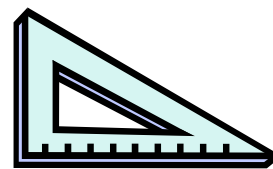

1. POJMENUJ GEOMETRICKÉ TVARY A JEJICH NÁZVY NAPIŠ.

NÁPOVĚDA: KRUH, ČTVEREC, TROJÚHELNÍK, OBDÉLNÍK.



.....

2. SPOJ ČAROU, VYTVOŘ SPRÁVNÉ DVOJICE:



KRUH

OBDÉLNÍK

TROJÚHELNÍK

ČTVEREC

3. SPOJ ČAROU, VYTVOŘ SPRÁVNÉ DVOJICE:

PŘÍMÁ ČÁRA

KŘIVÁ ČÁRA

BOD



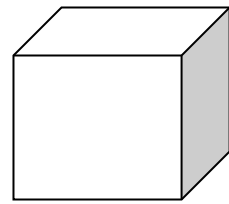
C ×



4. VYZNAČ BOD A A BOD B. VZDÁLENOST MEZI BODY = 10 CM. BODY SPOJ PŘÍMOU ČAROU.

5. POJMENUJ TĚLESA A JEJICH NÁZVY NAPIŠ.

NÁPOVĚDA: KRYCHLE, VÁLEC, KOULE



6. SPOJ ČAROU.



KRYCHLE

VÁLEC

KOULE

